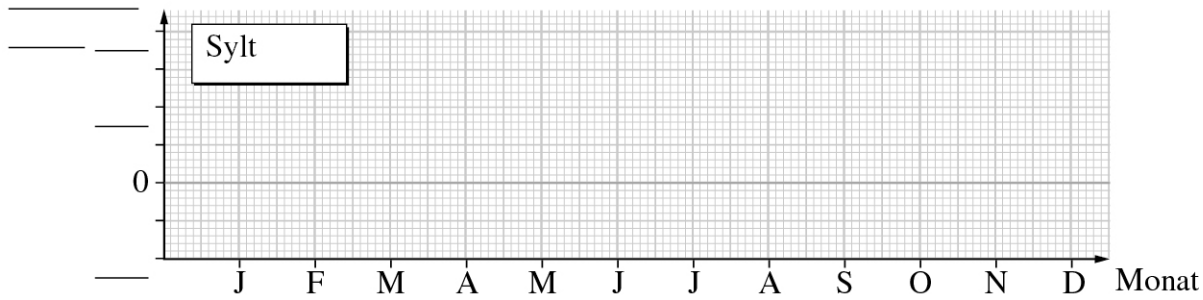
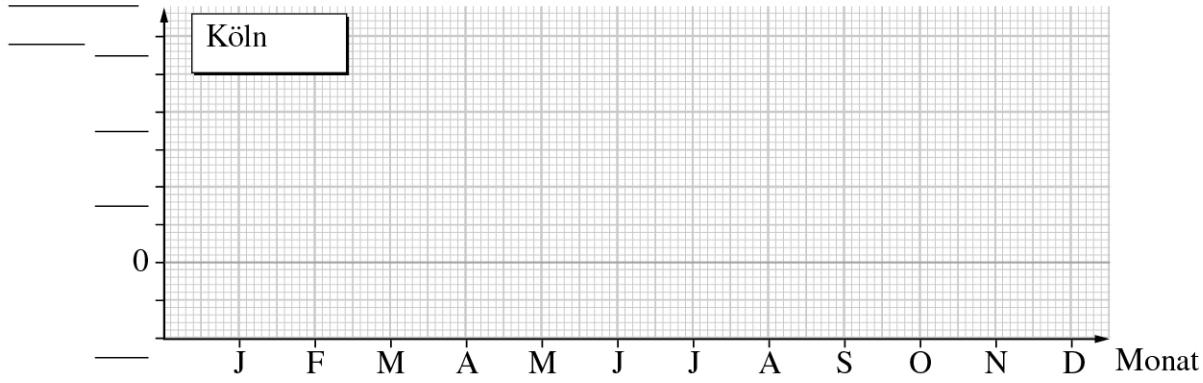
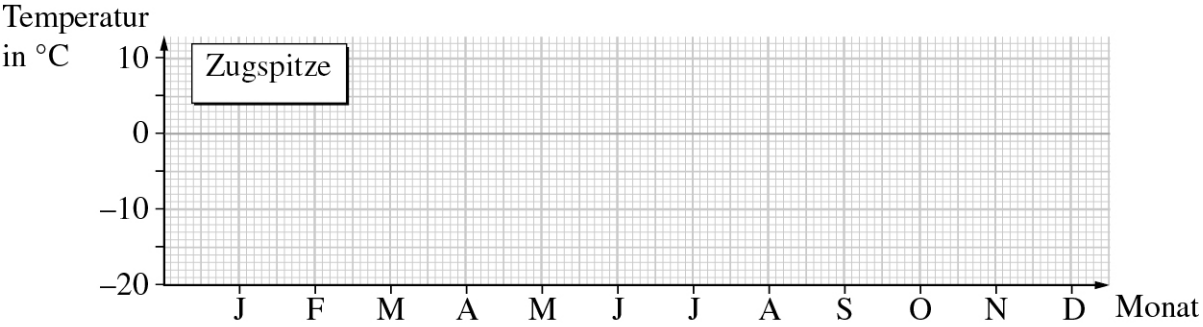


Name:	
Klasse:	Datum:

Diagramme zeichnen (2)

Monat	Jan.	Feb.	Mrz.	Apr.	Mai.	Juni	Juli	Aug.	Sept.	Okt.	Nov.	Dez.
Tagestemperatur in °C												
Zugspitze	-9	-9	-8	-5	0	3	5	5	3	0	-5	-7
Köln	4	6	10	15	19	22	23	23	20	14	9	5
Sylt	3	3	5	9	14	17	18	19	16	12	8	5
Nachttemperaturen in °C												
Zugspitze	-14	-14	-13	-10	-5	-2	0	0	-1,8	-4,3	-10	-12
Köln	-2	-2	0	4	7	11	12	12	9	5	2	-1
Sylt	-1	-1	1	4	8	11	13	14	12	9	4	1

1 Stelle alle Messwerte grafisch dar (Tageswerte – rote Säulen, Nachtwerte – blaue Säulen).



Name:	
Klasse:	Datum:

Arbeitsblatt

Physik